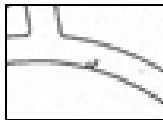


A. IN DE KLAS

1. Wat staat er op dit plan?

Bekijk het plan van 1876 op p. 3 en beantwoord volgende vragen:


- a. Vul de legende aan en kies uit volgende woorden: *weg* – *huizen* – *percelen* (= stukken bouwgrond of landbouwgrond)



=

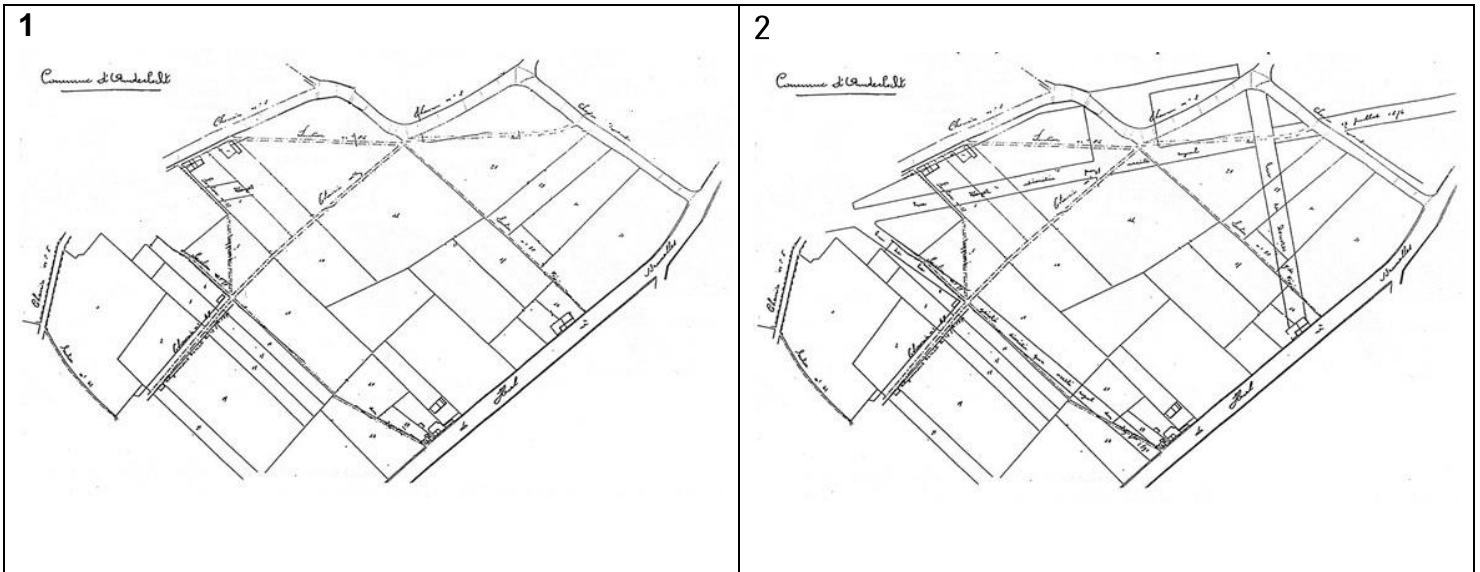


=



=

- b. Wat kunnen we begrijpen uit de uitvergroting (= de blauwe cirkel op het plan)?
- Sommige wegen lopen door percelen.
 - Sommige straten lopen over elkaar.
- c. Wat betekent dat volgens jullie?
- Dat er nieuwe straten toegevoegd werden.
 - Dat de percelen vergroot werden.
- d. Bekijk deze tekeningen. Welke tekening toont de wijk vóór de aanleg van nieuwe straten? Nr.



- e. Kleur de huizen rood op het gekozen plan.

2. Maak je eigen herkenningstekens!

Op de huidige kaart:

- a. Kleur de Bergense steenweg en de Rauterstraat **groen**.
- b. Kleur de Dorpsstraat en de Bronsstraat **geel**.
- c. Kleur de Wayezstraat en het Verzetsplein **blauw**.

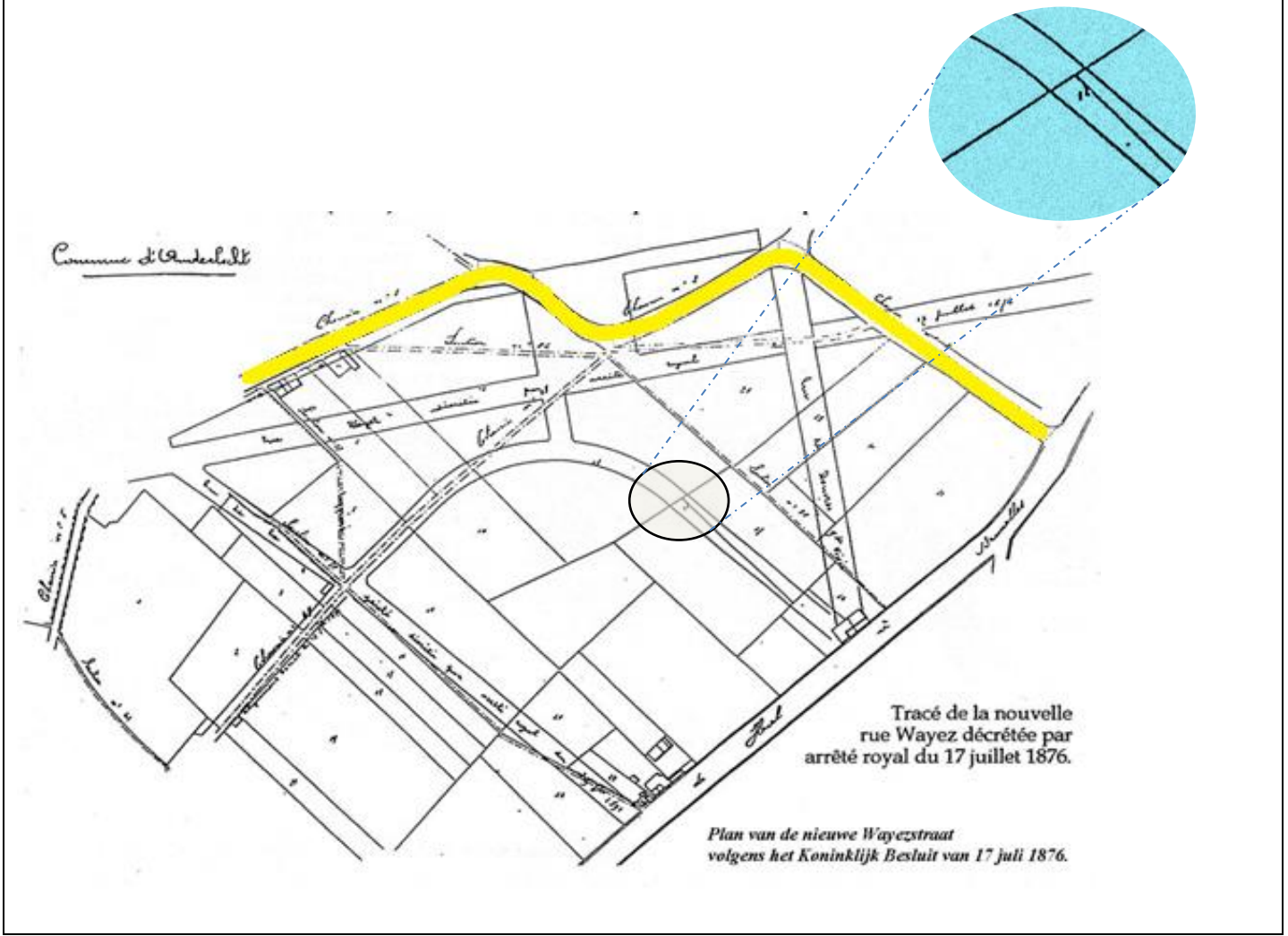
Op het plan van 1876:

- d. Zoek de Bergense steenweg en de Rauterstraat en kleur ze **groen**.
- e. Zoek de Wayezstraat en het Verzetsplein en kleur ze **blauw**.

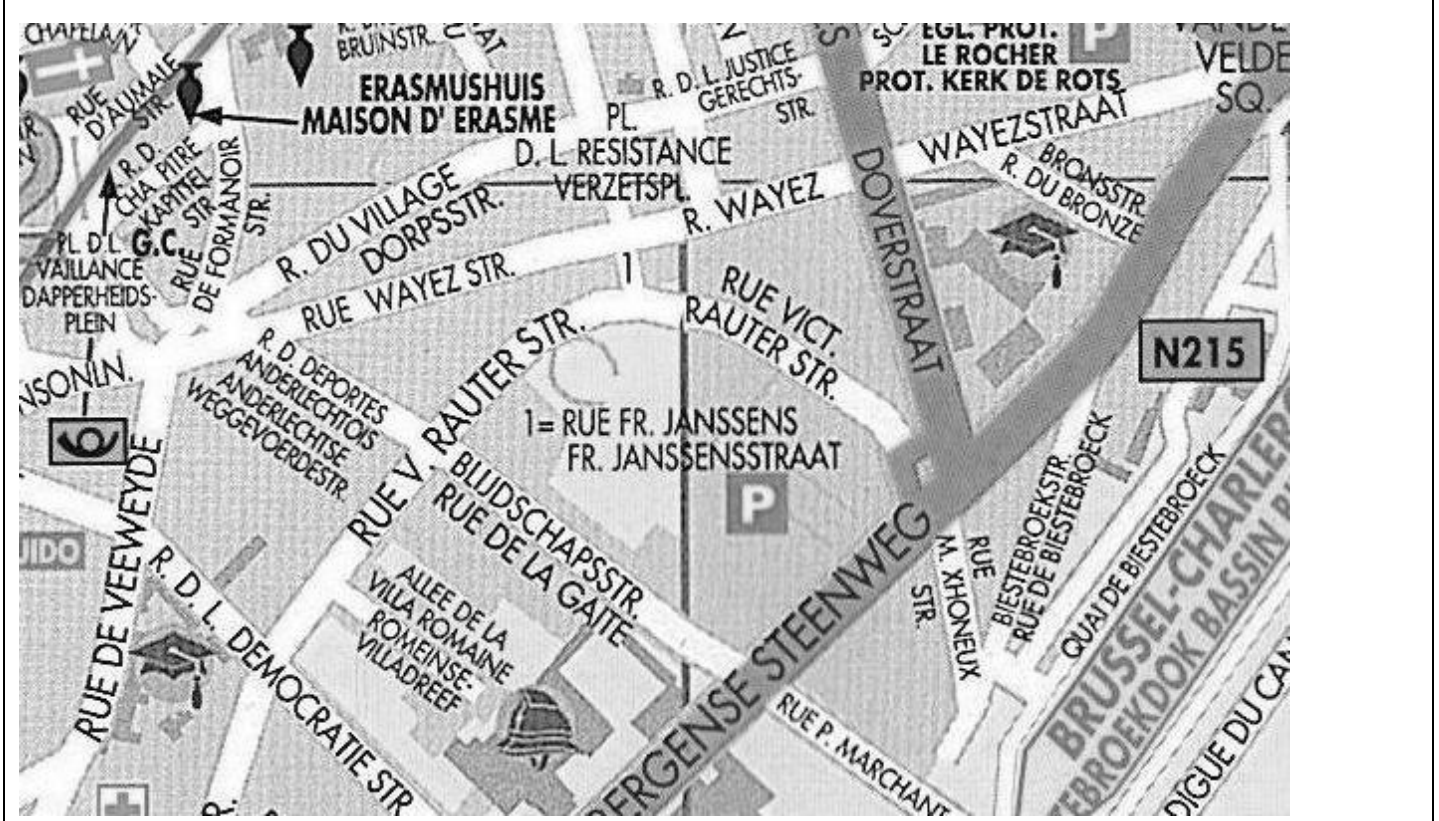
3. Vergelijk het plan van 1876 met de huidige kaart.

- a. De gele weg op het plan van 1876 komt overeen met de Dorpsstraat. Wat stel je vast?
- De Dorpsstraat vandaag is langer.
 - De Dorpsstraat vandaag is korter.
- b. Vergelijk de Wayezstraat met de vroegere Dorpsstraat (op het plan van 1876).
- De Wayezstraat is directer dan de Dorpsstraat.
 - De Dorpsstraat is bochtiger dan de Wayezstraat.
- c. Op het plan van 1876, worden de Wayezstraat en het Verzetsplein doorkruist door de Dorpsstraat. Wat betekent dat?
- Dat men de Dorpsstraat boven op het Verzetsplein heeft getekend.
 - Dat men het Verzetsplein boven op de Dorpsstraat heeft getekend.
- Op het plan van 1876 zien we nog straten in aanbouw. Welke?
- Blijdschapsstraat
 - Bronsstraat
 - Douverstraat
 - Romeinse Villadreef
 - Victor Rauterstraat

Plan van 1876



Huidige kaart



B. OP STRAAT

OEFENING 1: KENMERKEN


Begin de wandeling in de Wavezstraat, ter hoogte van het Dapperheidsplein. Observeer de Wavezstraat. Vul aan of schrap wat niet past in deze tabel.

| Inrichting | Bebouwing |
|--|--|
| <ul style="list-style-type: none"> ▪ Parking? JA / NEE ▪ Tram? JA / NEE ▪ Hoeveel mensen kunnen naast elkaar op het voetpad lopen? ▪ Aanwezigheid van: banken / bloembakken / bomen / vuilbakken | <ul style="list-style-type: none"> ▪ Rijhuizen (gebouwen aan elkaar vast) / Alleenstaand (gebouwen los van elkaar) ▪ Gebouwen langs het voetpad / op afstand van het voetpad |

OEFENING 2: HET VERKEER

Bekijk deze oude postkaart van de Wavezstraat. Ze dateert vermoedelijk van na de Eerste Wereldoorlog.

- ❖ Welke vervoersmiddelen zijn zichtbaar op de postkaart?
 - de kar
 - de tram
 - de auto
- ❖ Welk vervoersmiddel is vandaag vooral aanwezig?



OEFENING 3: FUNCTIE

1. Deze straat dient **vooral** om te ... (kruis één keuze aan):
 - wandelen
 - winkelen
 - wonen
2. Deze straat is dus een:
 - winkelstraat
 - industriezone
 - woonwijk
3. **Welke soort** winkels vind je hier? Stap van nr. 187 tot nr. 145 en trek in onderstaande tabel een streepje voor elke winkel die je passeert. Turven doe je zo:

| | |
|--------------------|--------------------|
| - voedingswinkels: | - kledingwinkels: |
| - horeca: | - schoenenwinkels: |
| - apothekers: | - juweliers: |
| - interimbureaus: | - optiekers: |
| - parfumerie: | - electro: |
| - uitverkoop: | - andere: |

4. Waaraan herken je een winkelstraat? Kruis de juiste antwoorden aan. Dit herken je aan...

| | | |
|--|---|--|
| <input type="radio"/> de voortuintjes | <input type="radio"/> de uithangborden | <input type="radio"/> de decoratieve brievenbussen |
| <input type="radio"/> de lichtreclames | <input type="radio"/> de garagepoorten | <input type="radio"/> de teruggetrokken ingangen (weg van het voetpad) |
| <input type="radio"/> de gordijnen voor het raam | <input type="radio"/> de uitstalramen op het gelijkvloers | <input type="radio"/> de vele verschillende en levendige kleuren |

5. Is de Wayezstraat eigenlijk **al lang** een winkelstraat? JA / NEEN

- Bekijk opnieuw de postkaart van na de Eerste Wereldoorlog op de vorige pagina. Waaraan kan je zien dat het toen ook al een winkelstraat was? Kruis aan.
 - aan de uitstalramen
 - aan de bloembakken
 - aan de zonneschermen
 - aan de vlaggen
- **Omcirkel** die elementen op de postkaart en omcirkel dan het juiste antwoord op vraag 5.

6. **Afspraak tegenover nr. 108.** Vergelijk het gebouw vóór je met de oude buurtslagerij op deze foto.



Hoeveel deuren waren er **vroeger**?

- Waar leidden ze naar?
- Waar bevonden ze zich?
 - langs de straat (naast het voetpad)
 - teruggetrokken van de straat (weg van het voetpad)
- Ging het uitstalraam tot op de grond? JA/NEEN

Hoeveel deuren zijn er **vandaag**?

- Waar leiden ze naar?
- Waar bevinden ze zich?
 - langs de straat (naast het voetpad)
 - teruggetrokken van de straat (weg van het voetpad)
- Gaat het uitstalraam tot op de grond? JA/NEEN

- Teken op de actuele foto van huis nr. 108 de deur(en) en het uitstalraam zoals ze vroeger **waarschijnlijk** waren.

